

Nom : Prénom : Date :












Évaluation d'Histoire n°3 : Moyen Age /20

Compétence :

Connaître et mémoriser les principaux repères chronologiques (événements et personnages).

I- Les paysans du Moyen Age : un calendrier

/11

				
				
		<p>Voici un calendrier paysan représentant, dans l'ordre, les douze mois de l'année.</p> <p>Lis bien les phrases décrivant les mois et retrouve l'image qui correspond, et écris le chiffre correspondant dans le petit carré.</p>		

1. En mars, le paysan taille la vigne.

2. En octobre, le paysan sème pour l'an prochain.

3. En juillet, ils moissonnent.

4. En novembre, la paysanne file la laine.

5. En août, ils battent le blé pour séparer le grain.

6. En mai, le paysan laboure le sol.

7. En septembre, le paysan et la paysanne vendangent.

8. En avril, ils tondent les moutons.

9. En janvier, le paysan nettoie les fossés du château.

10. En juin, le paysan fauche l'herbe.

11. En décembre, le paysan tue le cochon.

12. En février, le paysan met du fumier dans les champs.

a) Qu'est ce que le paysan doit faire en échange de la protection du seigneur ? Donne deux exemples :

b) Les paysans sont-ils nombreux au Moyen Age ? Entoure : OUI NON

c) Cite le nom d'un nouvel outil agricole utilisé au Moyen Age et explique à quoi il sert :

II- Une architecture médiévale : le château fort.


/5,5

a) Qui possède un château fort ?.....

b) Comment s'appelle l'ensemble du domaine qui entoure le château ?

.....

Place convenablement ces mots pour décrire le château fort : créneau ; courtine ; pont-levis ; donjon ; fossé



III- Les chevaliers

/3,5

a) Place les mots suivants sur le schéma : heaume, écu, éperon, armure, épée.



b) Comment se nomme la cérémonie durant laquelle on devient chevalier ?

.....