


# Evaluation d'Histoire : Le Moyen Age

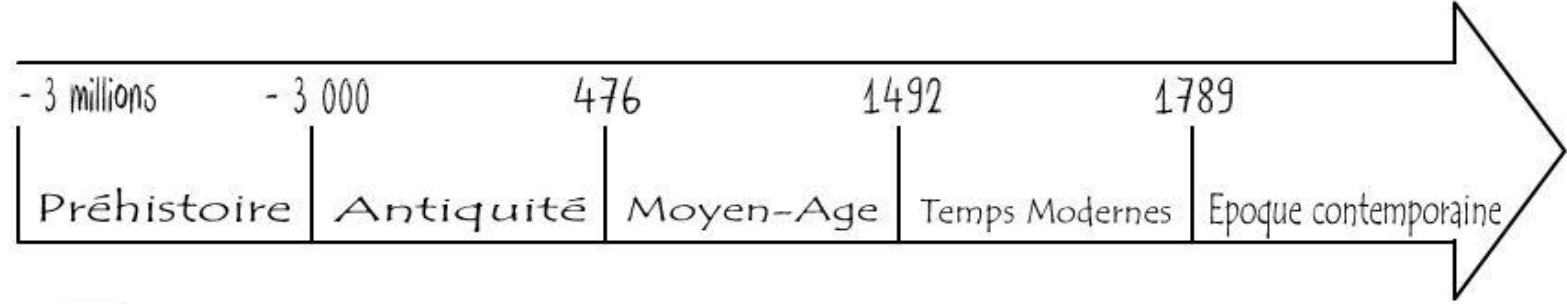
CM



Compétences	
<ul style="list-style-type: none"> <li>Se repérer dans le temps : construire des repères historiques</li> </ul>	
Situer chronologiquement des grandes périodes historiques.	
<ul style="list-style-type: none"> <li>Comprendre un document :</li> </ul>	
Extraire des informations pertinentes pour répondre à une question	
Identifier le document et savoir pourquoi il doit être identifié.	
<ul style="list-style-type: none"> <li>Pratiquer différents langages en histoire :</li> </ul>	
Écrire pour structurer sa pensée et son savoir.	
S'approprier et utiliser un lexique historique approprié.	



**1 Sur la frise ci-dessous, colorie en ROUGE la période des grands mouvements de population et en BLEU celle où Louis IX a régné :**



**2 Lis le texte et réponds aux questions :**

La rumeur publique fit courir le bruit qu'Attila, au comble de sa férocité, aurait décidé de ravager et de soumettre la Gaule. Terrorisés, les habitants de Paris décidèrent de quitter la ville en emportant leurs biens, et de se mettre à l'abri dans d'autres villes. Mais Geneviève appela les femmes et leur demanda de jeûner et de prier, pour demander à Dieu que la ville soit épargnée. Celles-ci suivirent ses conseils et restèrent durant plusieurs jours dans une église pour y prier et y jeûner.

*D'après Monumenta Germaniae Historica.*

- Souligne en vert le passage qui montre la peur des Parisiens.
- Souligne en rouge le passage qui montre le danger que représentent les Huns, dirigés par Attila.
- Souligne en bleu le passage qui montre l'importance de la religion au Moyen Age.
- Explique en quoi le déplacement des Huns a déstabilisé tout l'Empire Romain :

.....

.....


.....

.....

## Evaluation d'Histoire : Le Moyen Age

3

Observe cette miniature représentant le sacre de Louis IX :



Louis IX entouré de ses conseillers et de Blanche de Castille, sa mère. Miniature du XVème siècle, BNF

• Place les nombres suivants au-dessous des symboles correspondants :  
1-la couronne                      2-le sceptre                      3-la main de justice

• Colorie en bleu le manteau royal.

• En quoi la cérémonie du sacre est-elle importante pour le pouvoir du roi ?

.....  
.....

## Evaluation d'Histoire : Le Moyen Age

4

Observe ces épisodes de la vie de Louis IX et écris une légende sous chaque image :



Four empty rounded rectangular boxes for writing legends, corresponding to the four images above.

5

Complète ces phrases avec le lexique approprié :

### 1. Les grands mouvements et déplacements de population

Quand plusieurs peuples « barbares » arrivent en masse dans leur Empire, les Romains parlent d'une ..... Aujourd'hui, on utilise le terme de ..... pour désigner ces déplacements de population. Quand les Francs se sont rendus maîtres d'une partie de la Gaule, on dit qu'ils en ont fait la .....

### 2. Louis IX, le « roi chrétien » au XIII<sup>ème</sup> siècle

Le roi de France a tout pouvoir sur ses sujets, il est le premier ..... du royaume. Les terres qu'il contrôle représentent son ..... Louis IX a vécu de manière exemplaire selon les valeurs chrétiennes et le Pape en a fait un ..... Il a été admiré notamment parce qu'il a participé à deux ....., des guerres qui opposent chrétiens et musulmans.