

Nom : Prénom : Date :

LE TEMPS évaluation n°2

CE1

Compétences

La semaine est divisée en jours.

La journée est divisée en heures.

Comparer, estimer, mesurer des durées :

-unités de mesure usuelles de durées : jour, semaine, heure, minute, seconde, mois, année, siècle, millénaire.

-Relations entre ces unités.

Identifier les rythmes cycliques du temps.

1

Voici l'emploi du temps de Marcel et Suzanne :

	matin	après-midi
lundi		
mardi		
mercredi		
jeudi		
vendredi		
samedi		
dimanche		

1. Ecris le nom des jours où les enfants ont fait du sport :

Les enfants ont fait du sport le

....., le, le

..... et le

2. Quelle est l'activité réalisée le dimanche matin ?

Le samedi matin, ils ont fait

3. A quel moment Suzanne et Marcel sont-ils allés au musée ?

Suzanne et Marcel sont allés au musée le

.....

4. Quelle est l'activité réalisée le mercredi après-midi ?

Le mercredi après-midi, ils sont allés




.....

5. Les enfants ont fait de la pâte à modeler. A quel moment de la semaine était-ce ?

Ils ont fait de la pâte à modeler le

.....

Reconstitue l'emploi du temps de ta classe :

	LUNDI	MARDI	JEUDI	VENDREDI
MATIN				<p>36 - 8</p> 
APRES-MIDI				



3

Relie ces horloges aux heures digitales correspondantes :



www.micetf.fr



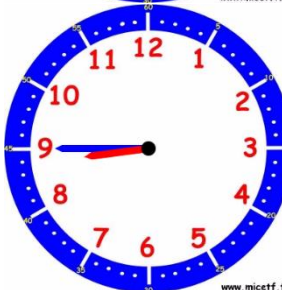
www.micetf.fr



www.micetf.fr



www.micetf.fr



www.micetf.fr

• 07:00

• 08:45

• 10:15

• 16:45

• 15:30

Observe ce calendrier et répons au questions :

Janvier 2018						
Lun	Mar	Mer	Jeu	Ven	Sam	Dim
1 Jour de l'an	2 Basile	3 Geneviève	4 Odilon	5 Edouard	6 Melaine	7 Raymond
8 Lucien	9 Alix	10 Guillaume	11 Pauline	12 Tatiana	13 Yvette	14 Nina
15 Rémi	16 Marcel	17 Roseline	18 Prisca	19 Audric	20 Sébastien	21 Agnès
22 Vincent	23 Barnard	24 François	25 Paul	26 Paule	27 Angèle	28 Thomas
29 Gildas	30 Martine	31 Marcelle				

Calendriers agendas : <http://www.calagenda.fr>

1. Par quel jour de la semaine commence le mois de janvier ?

Le mois de janvier commence un

.....

2. Combien le mois de janvier compte-t-il de jours ?

Le mois de janvier compte jours.

3. Combien a-t-il de dimanche ?

Le mois de janvier compte dimanches.

4. L'école reprendra le **lundi 8 janvier 2018** : colorie les jours de vacances en rose.

5. Colorier **les week-ends** en rouge et **les mercredis** en orange.

6. Le Cross Ouest France aura lieu le **samedi 13 janvier 2018** : écris « Cross » dans la case correspondante.

7. Quel jour dois-je téléphoner à ma tante Martine pour lui souhaiter une bonne fête ?

Je dois lui téléphoner le

.....