

EVALUATIONS DE RENTREE : *Mathématiques*


CM1

Compétences
Associer les noms des nombres à leurs écritures chiffrées
Ranger et encadrer des nombres entiers
Mettre en œuvre un algorithme de calcul posé pour l'addition et la soustraction
Résoudre un problème
Reproduire une figure simple à l'aide d'instruments de géométrie
Utiliser le lexique et les unités de mesures spécifiques aux mesures de grandeurs

1

Écris les nombres suivants en chiffres :

- mille-cinq-cents :
- Deux-cent-soixante-dix :
- huit-mille-quatre-vingt-treize :



2

Écris en lettres chaque nombre :

7 256 :																				
5 307 :																				

3

Range les nombres suivants dans l'ordre croissant.

6006 – 6060 – 6600 – 6000 – 6066

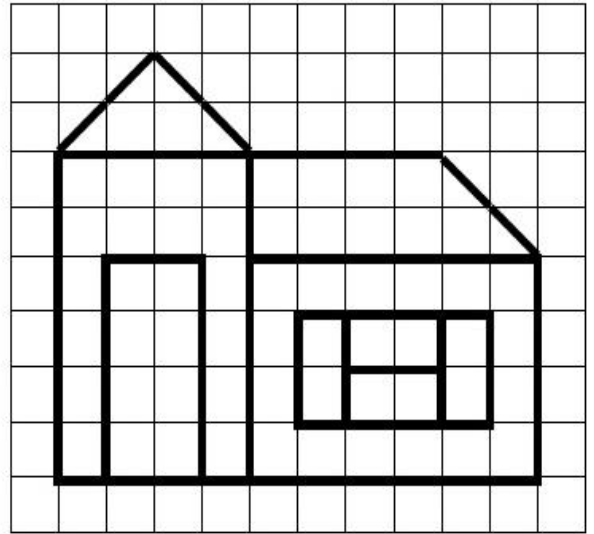

4

Encadre les nombres suivants :

Nombre précédent		Nombre suivant
	7 000	
	8 999	

7

Reproduis cette figure :



8

Complète avec l'unité qui convient : mètres, centimètres, grammes, kilogrammes :

Au stade, Antoine a fait un saut de 60

Il a réussi à soulever une caisse qui pesait 8

Il a lancé un sac de sable de 200 à une distance de 14

