



6

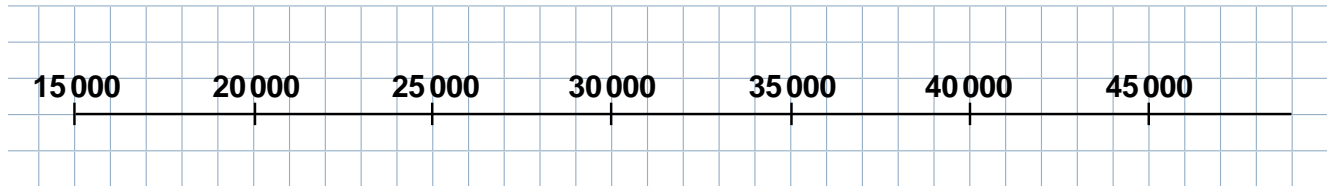
**Place les lettres qui correspondent à ces nombres sur la demi-droite graduée.**

A : 16 000

B : 43 000

C : 32 000

D : 27 000



7

**Pose et effectue les opérations :**

a)  $307\,248 + 34\,734$

b)  $69\,369 - 32\,235$

c)  $9\,145 - 6\,856$




6

**Problèmes :**

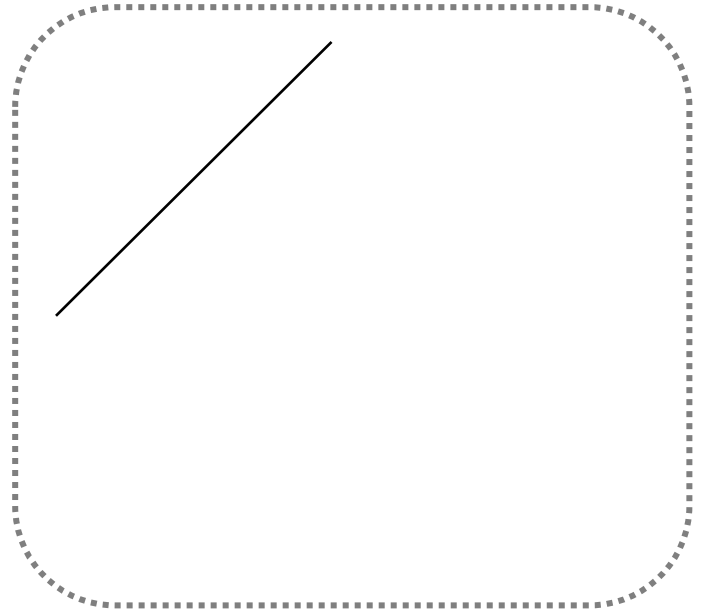
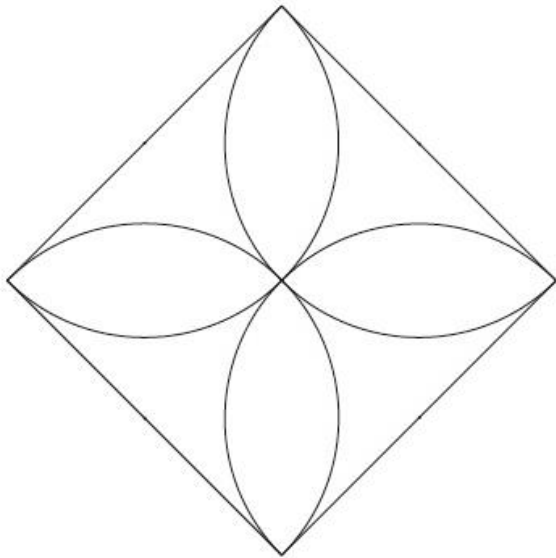
Philippe, un grand-père de 68 ans, a gagné 3572 € à la loterie. Il décide de partager cette somme entre ses quatre petits-enfants. Combien chacun va-t-il recevoir ?

Calcul(s)

Schéma


7

**Reproduis cette figure :**



8

**Complète avec l'unité qui convient :**

Alexandre a tracé un rectangle qui a un périmètre de 12 .....

Nous avons parcouru 265 ..... pour nous rendre en voiture à

l'île de Noirmoutier : le voyage a duré plus de 3 ..... !

Gaëlle a acheté une bouteille de soda de 1,5 .....

Mon chat pèse 4 .....

