

EVALUATION DE GEOGRAPHIE : SE DEPLACER EN FRANCE ET EN EUROPE

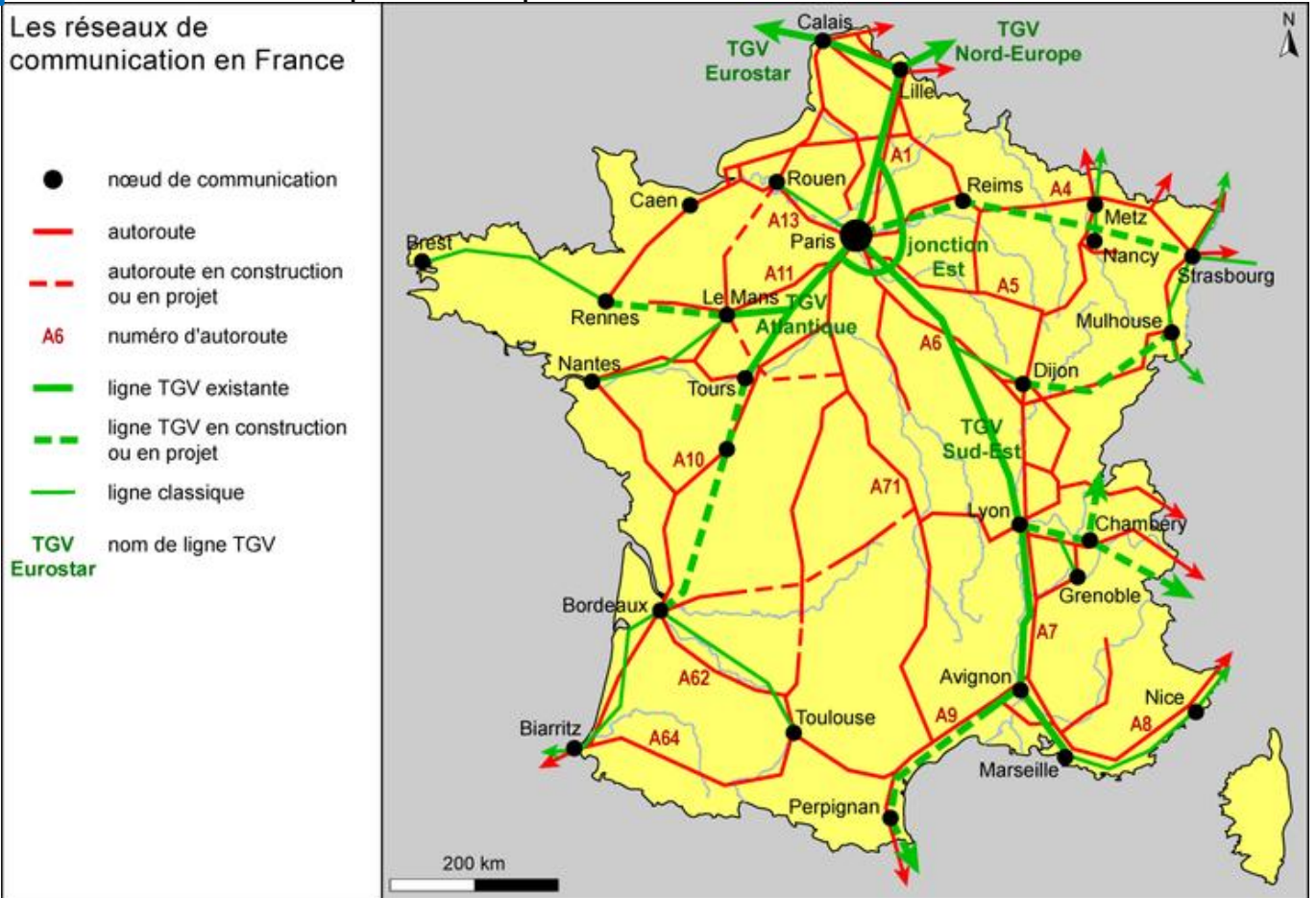
120



- Savoir lire une carte du réseau routier français.
- Savoir lire le tableau des arrivées dans une gare.
- Restituer ses connaissances sur « se déplacer en France et en Europe »

A 1. Observe la carte et réponds aux questions :

16



2. Le réseau français est disposé **en étoile** autour d'une ville, laquelle ?

3. Indique quelle **autoroute** je dois emprunter pour aller du Mans à Paris :

4. Puis-je emprunter l'autoroute pour faire **directement** le trajet Rennes-Nantes ?







5. Puis-je prendre le TGV pour aller de **Paris à Lille** ? _____

Pour aller de **Bordeaux à Toulouse** ? _____

6. Indique un trajet qu'il sera **bientôt possible** de faire en TGV :

1. Observe ce tableau puis réponds aux questions :

Trains à l'arrivée de Paris Gare du Nord : Lundi 11 février 2013, 21:05

Transporteur	Num	Heure	Provenance	Information	Voie	
	9376	20h35	AMSTERDAM	Retard : 01 h 15 mn		
	EUROSTAR	9044	20h47	LONDRES	ARRIVÉ	6
	EUROSTAR	9044	20h47	ST PANCRAS	ARRIVÉ	6
	TGV	7154	21h08	VALENCIENNES		11
	EUROSTAR	9046	21h17	LONDRES	Retard : 15 mn	
	EUROSTAR	9046	21h17	LONDRES-ST PANCRAS	Retard : 15 mn	
	TER	847454	21h27	BEAUVAIS		
	12034	21h32	AMIENS			
	9382	21h38	AMSTERDAM			

2. De **quelle ville** provient le TGV n° 7154 ? _____
 À **quelle heure** doit-il arriver ? _____ Sur **quelle voie** ? _____
3. Donne le nom de **deux villes européennes** reliées à Paris :

4. Explique comment l'**Eurostar** peut traverser l'obstacle de la Manche :

5. Trois trains subissent un retard : à ton avis, quelle peut-en être la cause ? _____

1. Donne la définition du mot **réseau** : _____

/1

2. Indique la signification du **sigle** LGV : _____

/1

3. Complète ce texte avec **les mots** que tu as appris :

/6

La voiture individuelle est un moyen de transport qui coûte _____ et qui _____ . Si possible, il faut lui préférer les transports en _____ qui permettent de déplacer _____ de personnes en _____ .
 Le mode de transport préféré des français est _____ .
 L'avion est le moyen de transport le plus _____ , le plus _____ et le plus _____ . Le plus grand aéroport français est celui de _____
 C_____ de G_____ .