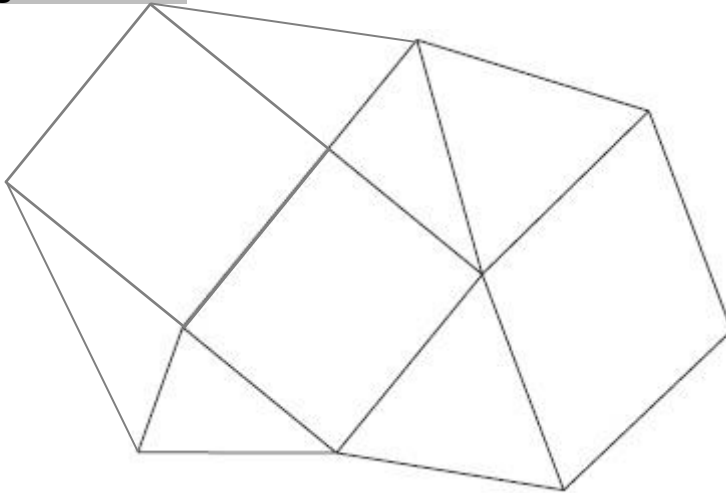


Compétences	Score
Définir, reconnaître et construire un rectangle, un losange, un carré.	/5
Connaître, convertir des unités de mesure de longueur	/5
Connaître, convertir des unités de mesure de masse	/5
Lire, interpréter, construire un tableau.	/5

1

Dans la figure suivante, colorie un carré en rouge, un losange en vert et un rectangle en bleu.


13



2

Construis un rectangle LONG tel que LO = 4 cm et ON = 7 cm.

11



3

Construis un carré BLOC de côté 6 cm.

11




4

Convertis en m chaque longueur.

/3


 3,6 km
... m


 275 mm
... m


 46,7 hm
... m

5

Donne un ordre de grandeur de :


/2


la taille en cm d'une fourchette	... cm
l'épaisseur de la trousse

6

Convertis en kg chaque masse :

/3


 26 983 g
... kg


 3,6 dg
... kg


 43 t
... kg

7

Donne un ordre de grandeur de :

/2

la masse en g d'une baguette de pain	... cm
la masse de la gomme

8

Organise les données suivantes dans un tableau :

/2

Un fleuriste reçoit 68 tulipes rouges et 88 roses blanches. Il a aussi reçu 142 roses rouges et 42 tulipes blanches.

9

On a demandé à 1 000 enfants quel était leur loisir préféré.

	Garçons	Filles
Musique	48	65
Lecture	27	138
Télévision	148	128
Console de jeux	109	66
Sport	182	89

1) À quoi correspond le nombre 89 de ce tableau ?

.....

le nombre 48 ?

.....

2) Quel est le loisir que les garçons aiment le plus ?

.....

3) Quel est le loisir que les filles aiment le moins ?

.....