

Evaluation Géométrie, Mesures et OGD : Période 3

CE2

Compétences	Score
Reconnaître et décrire un losange	/5
Reproduire un losange	/5
Reconnaître et placer le milieu d'un segment	/5
Connaître des unités de durée (jour, heure, minute, seconde)	/5
Lire l'heure sur un cadran à aiguilles	/5
Lire et interpréter un graphique	/5

1

Copie, puis complète chaque description de ces figures.:

15




Figure A

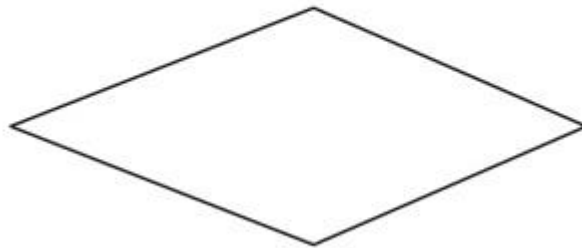


Figure B

a) La figure A possède côtés de même

Elle possède quatre angles

La figure A est un

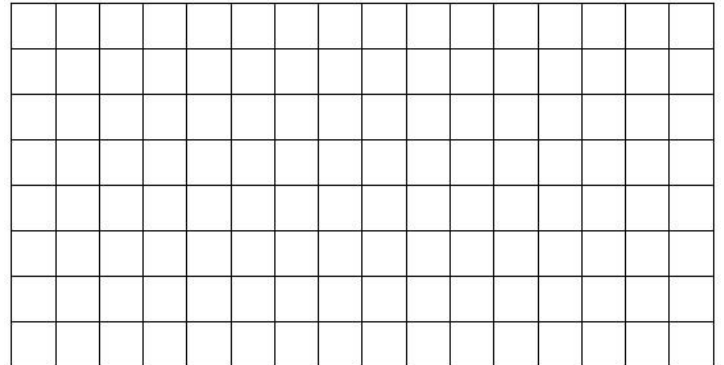
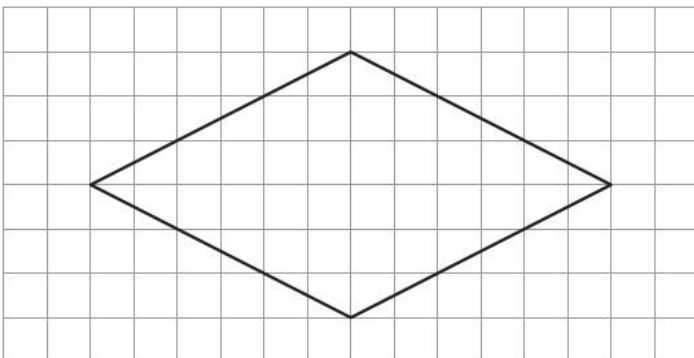
b) La figure B possède côtés de même

La figure B est

2

Reproduis ce losange :

15



3 Lis et construis ce qui est indiqué :

- 1) Trace en vert un segment de longueur 9 cm.
- 2) Place son milieu en faisant une croix bleue.

4 Lis et construis ce qui est indiqué :

- 1) Trace un segment de longueur 14 cm et d'extrémités A et S.
- 2) Place le milieu V de ce segment.
- 3) Place le milieu I du segment d'extrémités V et S.

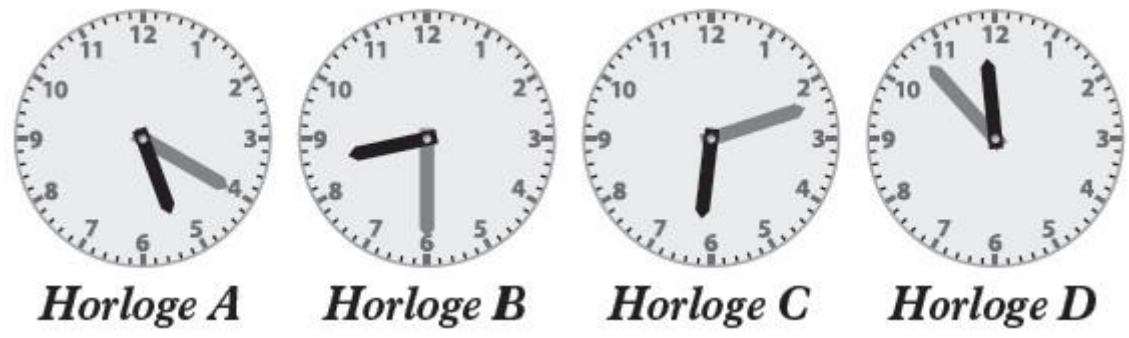
6 Complète chaque phrase avec les mots « heures », « minutes » ou « secondes ».

- a) La récréation dure environ 20
- b) Une journée de classe dure environ 6
- c) Un match de football dure 90
- d) Un sprint de 100 mètres dure quelques

7 Exprime en secondes ces durées.

- 2 min 15 s = s.
- 3 min 10 s = s.
- 2 min 55 s = s.

8 Observe l'heure indiquée par chaque horloge :

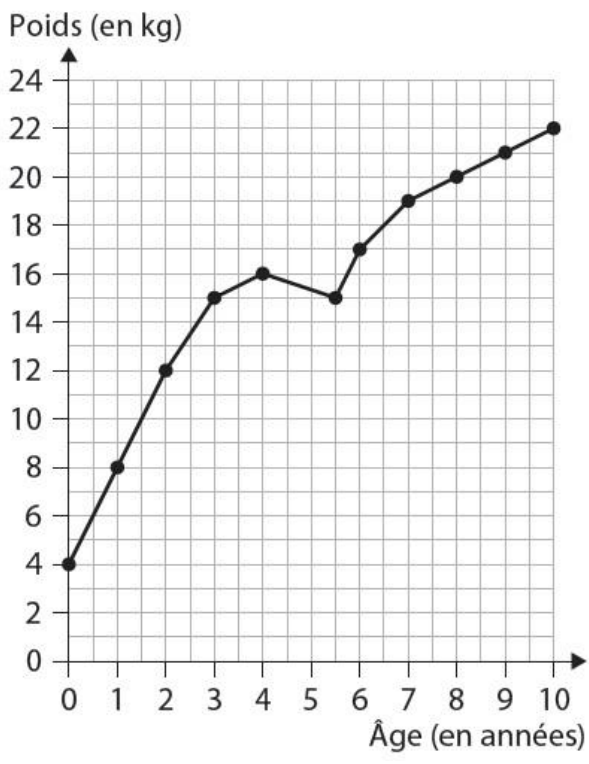


- a) Pour chacune des questions suivantes, tu donneras *l'heure du matin* :
- Quelle heure indique l'horloge A ?
 - Quelle heure indique l'horloge B ?
 - Quelle heure indique l'horloge C ?
 - Quelle heure indique l'horloge D ?

b) Ecris l'heure de l'après-midi indiquée par l'horloge B :

9 Observe le graphique suivant :

Il indique l'évolution du poids de Bastien depuis sa naissance et jusqu'à l'âge de 10 ans.



- 1) Combien pesait Bastien à 2 ans ?
.....
- 2) Combien pesait Bastien à la naissance ?
.....
- 3) À quel âge Bastien pesait-il 8 kg ?
.....
- 4) À quel âge Bastien pesait-il 19 kg ?
.....
- 5) Copie et complète avec les mots suivants : **baisse** – **hausse**.

« Entre 0 et 10 ans, le poids de Bastien a été en, mais entre 4 ans et 5 ans, son poids a subi une légère »