

# Evaluation d'Histoire : La romanisation de la Gaule

CM



Compétences	Score	○
Savoir utiliser les principaux termes du vocabulaire spécifique lié aux notions étudiées et connaître les personnages de la période.	/10	
Décrire la conquête de la Gaule à partir d'extraits de la « Guerre des Gaules » confrontés à des sources archéologiques.	/10	
Comprendre qu'une nouvelle civilisation, la civilisation gallo-romaine, se développe en mêlant les modes de vie et les techniques gaulois et romains.	/10	



1

## Complète le tableau ci-dessous :

/5

	Quel est le nom de ce personnage ?	Pourquoi se souvient-on de lui ?
	<p>.....</p> <p>.....</p>	<p>.....</p> <p>.....</p> <p>.....</p> <p>.....</p>
	<p>.....</p> <p>.....</p>	<p>.....</p> <p>.....</p> <p>.....</p> <p>.....</p>

- Quand ces deux personnages se sont-ils affrontés ?

.....

2

## Complète les définitions des mots suivants :

/5

- artisanat : fabrication d'.....  
.....
- gallo-romain : qualifie les habitants de .....  
.....
- romanisation : .....

# Evaluation d'Histoire : La romanisation de la Gaule

3 Lis le texte suivant :

12

## LES FORTIFICATIONS D'ALÉSIA

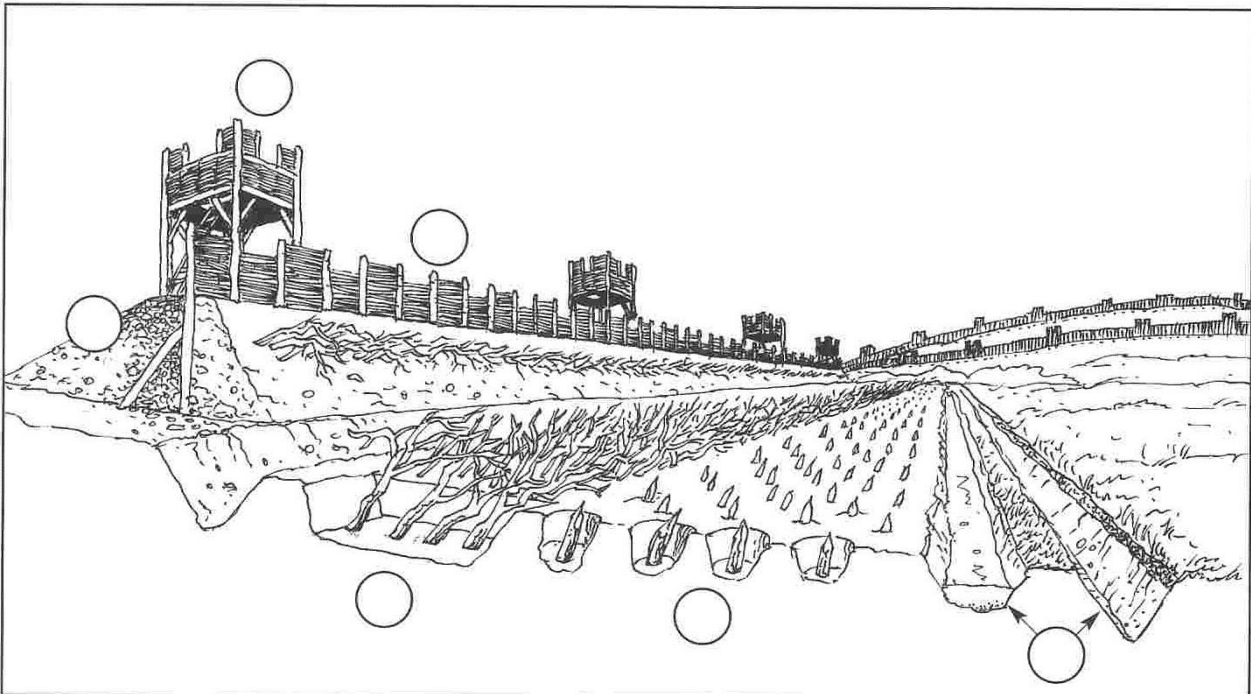
« César fit construire deux fossés ①. Il remplit le fossé intérieur d'eau dérivée de la rivière. En arrière des fossés, il construisit un remblai ② surmonté d'une palissade. Il compléta celle-ci par un parapet et des créneaux ③. Il éleva sur toute la périphérie de l'ouvrage des tours ④. Précédant les deux fossés, se trouvaient cinq rangées de troncs d'arbres et des branches taillées en pointe ⑤. Ceux qui s'engageaient dans cette zone s'empalaient sur les pieux. Devant, on creusa en quinconce huit rangées de trous ⑥ profonds qui allaient en se rétrécissant vers le bas. On y enfonça des pieux de bois gros comme la cuisse, fichés au fond. L'extrémité des pieux était taillée en pointe et durcie au feu. Ces travaux achevés, César fit faire des travaux du même genre en sens contraire, pour recevoir les ennemis qui viendraient du dehors... »

D'après Jules César, *La Guerre des Gaules*.

- Qui a écrit ce texte ?.....
- Qu'a-t-il fait pour conquérir la ville d'Alesia ?

4 Ecris la légende de ce dessin en plaçant les numéros au bon endroit :

18



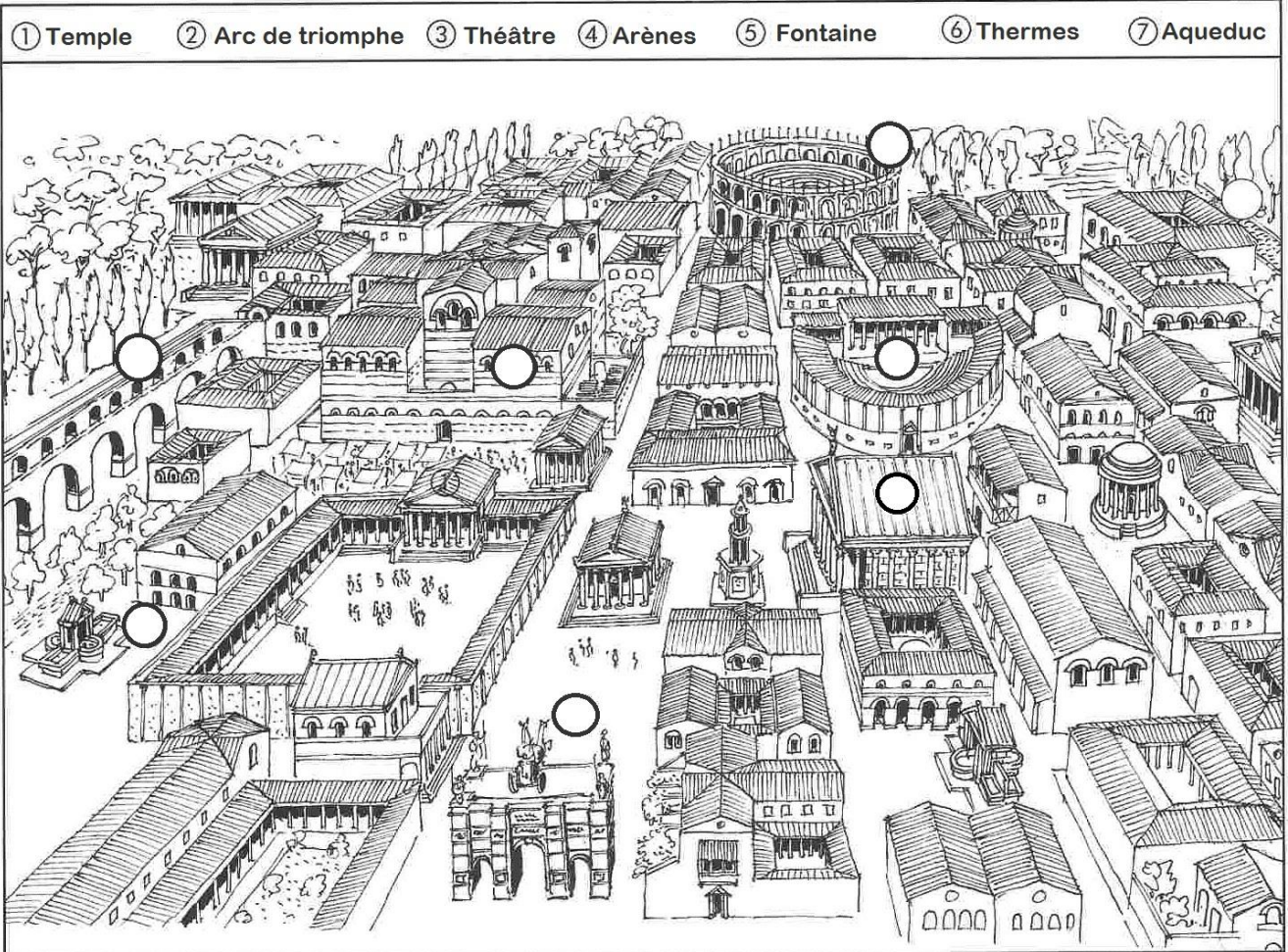
- |         |         |
|---------|---------|
| ① ..... | ④ ..... |
| ② ..... | ⑤ ..... |
| ③ ..... | ⑥ ..... |

# Evaluation d'Histoire : *La romanisation de la Gaule*

5

Observe plan de ville et place les numéros au bon endroit :

/10



- Colorie en bleu le bâtiment religieux (où l'on prie)
- Colorie en orange les deux bâtiments où l'on peut assister à un spectacle.