













Nom : Prénom : Date :

LE TEMPS évaluation n°1

CE2

Compétences
Comprendre le caractère cyclique des des mois.
Comprendre le caractère cyclique des jours.
Connaître les unités de mesure usuelles de durées : jour, semaine, heure, minute, seconde, mois, année, siècle, millénaire.
Comprendre comment on connaît le passé

1 Ecris le nom de tous les mois de l'année :

	1. <i>janvier</i>		7. <i>juillet</i>
	2.		8.
	3.		9.
	4.		10.
	5.		11.
	6.		12.

source : ecoledecrevet

2 Ecris le nom des jours de la semaine :

					<i>samedi</i>	<i>dimanche</i>
--	--	--	--	--	---------------	-----------------

3

Relie ces noms à leur durée :


- | | | |
|-------------|---|------------------|
| Une année | • | • 30 ou 31 jours |
| Une semaine | • | • 7 jours |
| Un mois | • | • 365 jours |
| | | • 12 mois |

4

Découpe les images représentant le métier d'archéologue et remets-les dans l'ordre. Ajoute ensuite la légende :



Ils dégagent délicatement des vestiges.



Ils reconstituent les objets abîmés.



Les archéologues quadrillent le terrain.



Ils cherchent ce qu'étaient ces objets.